



Namaste! Em dic Sunita i visc amb els meus pares, oncles i germans a Borivali, un barri de barraques a Bombai. Cada dia he de preparar l'esmorzar per als meus germans, netejar la nostra petita casa i ajudar els meus pares en el negoci familiar. Arreglem roba i també fem collarets de flors, que venem als turistes. Els meus germans tenen més sort que jo perquè poden anar a l'escola cada dia, on aprenen a llegir i a escriure, i quan tornen a casa tenen temps per jugar amb els veïns. A mi m'agradaria estudiar per dedicar-me a la recerca i trobar la vacuna contra la malària, però com que els meus pares no tenen gaires diners, els he d'ajudar a casa i no puc anar a l'escola. Però si no vaig a l'escola no podré fer recerca. A més, com que estan molt necessitats, els meus pares volen que em casï amb el fill d'uns amics seus a canvi de diners.

1. Creus que és just que pel fet de ser una noia la Sunita no pugui anar a l'escola? Per què?

---

---

---

2. Creus que les dones tenen els mateixos drets que els homes per accedir a les mateixes feines? Per què?

---

---

---

3. Creus que les famílies tenen dret a casar les seves filles a canvi de diners? Per què?

---

---

---

4. Qui fa les tasques domèstiques a casa teva? Si tinguessis fills, què els demanaries que fessin a casa?

---

---

---

5. Hi ha moltes professions o sectors on només hi ha homes o dones que treballen. Per què creus que passa això?

---

---

---

6. Quines diferències hi ha entre els nens i les nenes? Et tracten igual a classe pel fet de ser nen o nena?

---

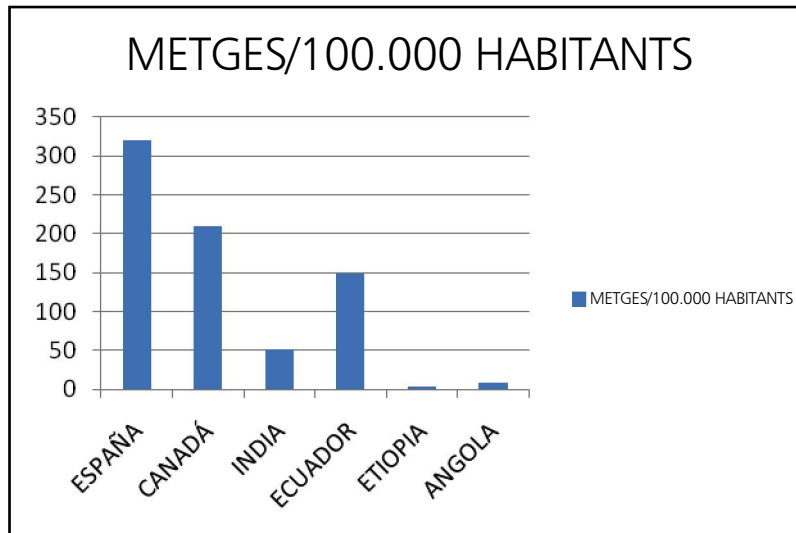
---

---



Observa aquestes gràfics i contesta les preguntes:

**Gràfic 1:** Relació de metges per cada 1000.000 habitants.



Font: Informe sobre Desenvolupament Humà 2005. PNUD.

1. Existeix molta diferència entre Espanya i l'Índia?

---

---

---

2. A què creus que es deuen aquestes diferències?

---

---

---

---

---

3. Com es podria millorar la situació?

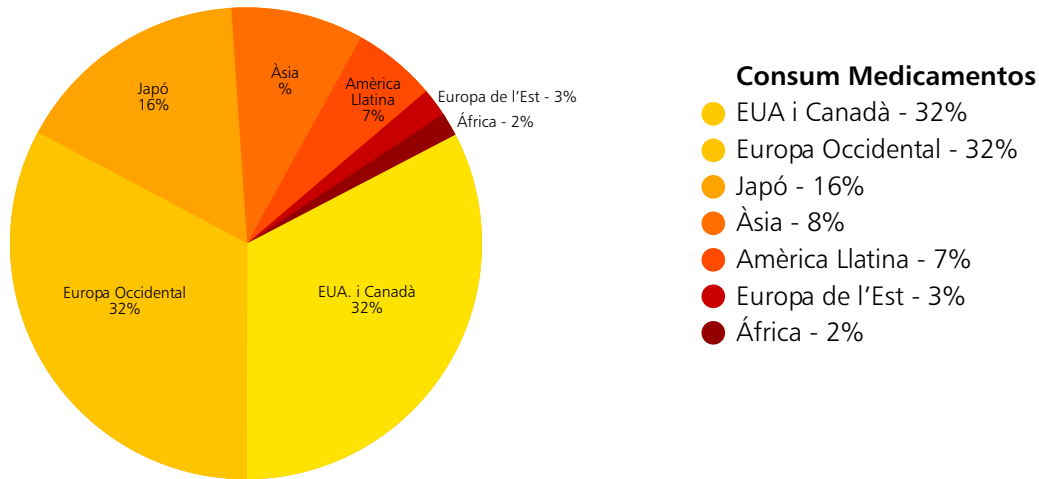
---

---

---

---

---

**Gràfic 2:** Consum de medicaments per país.

Font: Medicaments i desenvolupament. La realitat dels medicaments: un viatge al voltant del món.  
Coord. Natalia Herce. Médecus Mundi, 2003.

4. Quins són els països que consumeixen més medicaments?

---

---

---

---

---

---

5. Si els habitants dels països més pobres són els que tenen pitjor salut, per què són els que consumeixen menys medicaments?

---

---

---

---

---

---

6. Què es podria fer per solucionar això?

---

---

---

---

---

---



1. Hem rebut un correu electrònic del Sabitri, però hi falten algunes paraules. El podries completar?

Namaste! Em dic Sabitri i tinc 10 anys. Al matí, quan em llevo, he d'anar al lavabo i dutxar-me fora perquè no tenim \_\_\_\_\_ a casa. Per preparar el menjar, hem d'anar sempre a buscar \_\_\_\_\_ a una font que hi ha al carrer, i la meua mare l'ha de bullir molt bé perquè si no sovint ens posem malalts. Tots els residus del menjar els llencem al carrer o al riu perquè no hi ha \_\_\_\_\_ al carrer.

2. Quines conseqüències creus que comporta aquesta situació per a la salut i el medi ambient?

---

---

---

3. Explica la mateixa història però ara n'ets tu el/la protagonista.

Hola! Em dic \_\_\_\_\_. Al matí, quan em desperto...

---

---

---

4. Escribe una llista amb les activitats quotidianes per a les quals és necessari l'ús de l'aigua:

_____	_____	_____
_____	_____	_____
_____	_____	_____

5. Quines solucions proposaries a la teua família si tota l'aigua que tinguéssiu al vostre abast estigués bruta/contaminada?

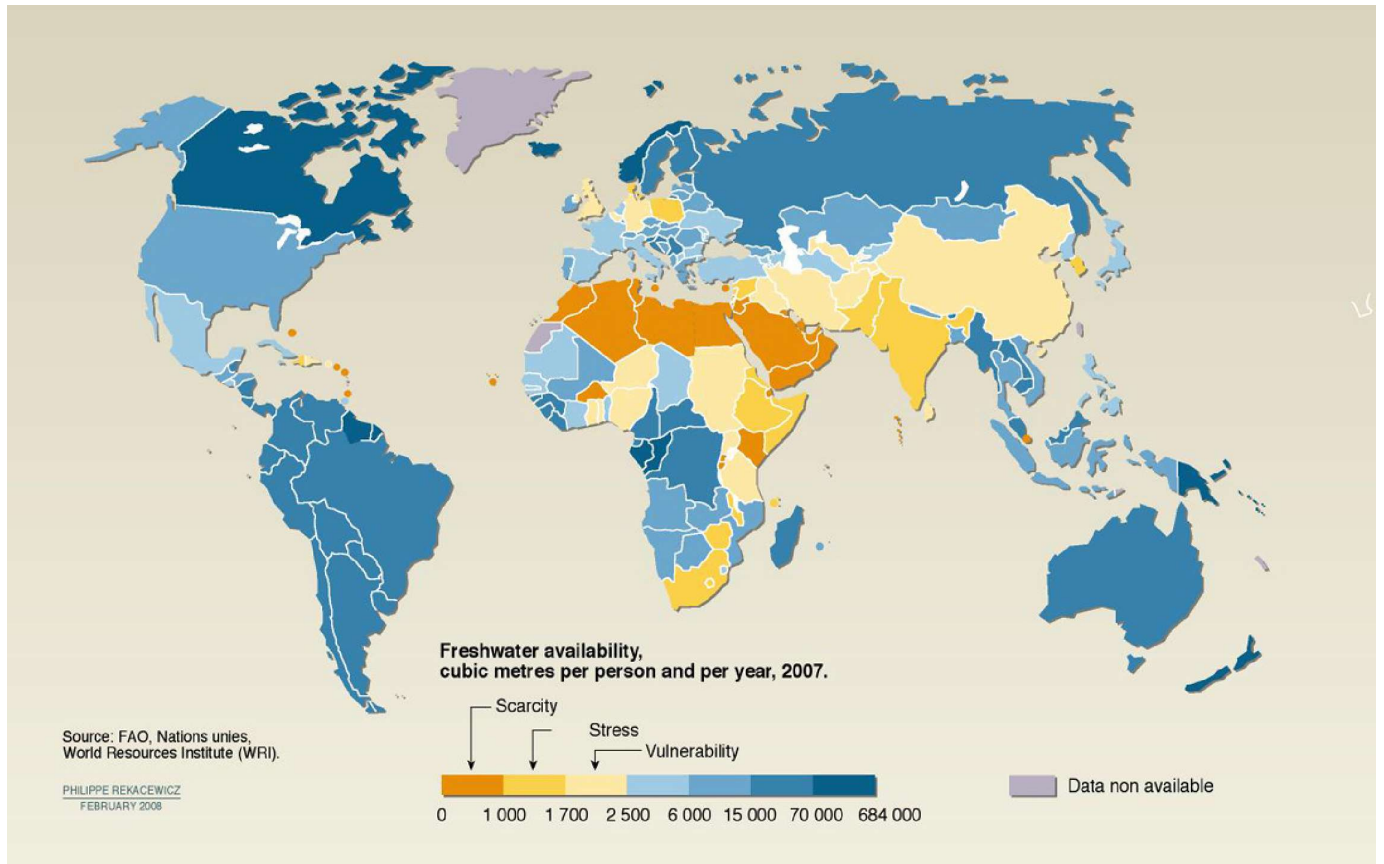
---

---

---



En aquest mapa pots veure la distribució d'aigua potable al món. Com més blau és un país, més aigua potable té. Com més taronja és un país, menys aigua potable té.



6. Quin país té menys aigua potable, l'Índia o Espanya? \_\_\_\_\_

7. A què creus que es deu aquesta diferència?

---

---

---

---



Sabies que hi han molts països que viuen en una situació de pobresa? L'Índia és un dels països més pobres del món. Si ens ajudéssim entre tots els països, podríem lluitar contra aquesta desigualtat.

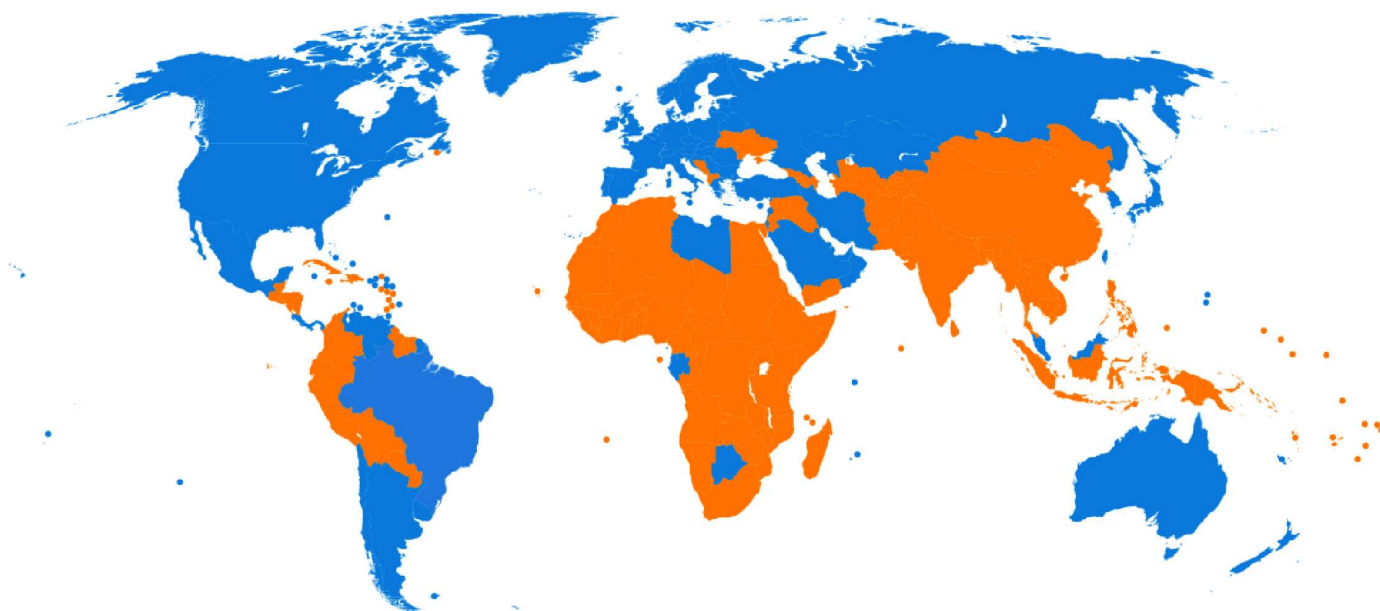
1. En el següent mapa els països en blau són els més rics i els països en taronja els més pobres. Indica en el mapa a on es troben els següents països:

a. Estats Units  
b. Brasil  
c. Sudàfrica

d. Perú  
e. França  
f. Índia

g. Austràlia  
h. Rússia  
i. Espanya

j. Etiòpia  
k. Japó  
l. Guatemala



2. Contesta les següents preguntes:

Què podem fer a Espanya per:

- que tots els nens i les nenes a l'Índia puguin anar a l'escola?

---

---

- que no hi hagin tantes persones malaltes al món?

---

---

- que totes les persones tinguin una casa i un lloc on dormir?

---

---

- que no hi hagi fam al món?

---

---