



Namaste! Me llamo Sunita y vivo con mis padres, mis tíos y mis hermanos en Borivali, un barrio de chabolas en Bombay. Cada día tengo que preparar el desayuno para mis hermanos, limpiar nuestra pequeña casa y ayudar a mis padres en el negocio familiar. Hacemos arreglos de ropa y también hacemos collares de flores que vendemos a los turistas. Mis hermanos tienen más suerte que yo porque pueden ir a la escuela cada día, donde aprenden a leer y a escribir, y cuando vuelven a casa tienen tiempo para jugar con los vecinos. A mí me gustaría estudiar para ser investigadora y encontrar la vacuna contra la malaria, pero como mis padres no tienen mucho dinero, les tengo que ayudar en casa y no puedo ir a la escuela. Pero si no voy a la escuela no podré ser investigadora. Además, como están muy necesitados mis padres quieren que yo me case con el hijo de unos amigos suyos a cambio de dinero.

1. ¿Crees que es justo que por el hecho de ser chica Sunita no pueda ir a la escuela? ¿Por qué?

---

---

---

2. ¿Crees que las mujeres tienen los mismo derechos que los hombres para acceder a los mismos trabajos? ¿Por qué?

---

---

---

¿Crees que las familias tienen el derecho de casar a sus hijas a cambio de dinero? ¿Por qué?

---

---

---

¿Quién hace las tareas domésticas en tu casa? ¿Si tuvieses hijos/as que les pedirías que hiciesen en casa?

---

---

---

Hay muchas profesiones o sectores donde sólo hay hombres o mujeres que trabajan. ¿Por qué crees que pasa esto?

---

---

---

¿Qué diferencias hay entre los niños y las niñas? ¿Te tratan igual en clase por el hecho de ser niño o niña?

---

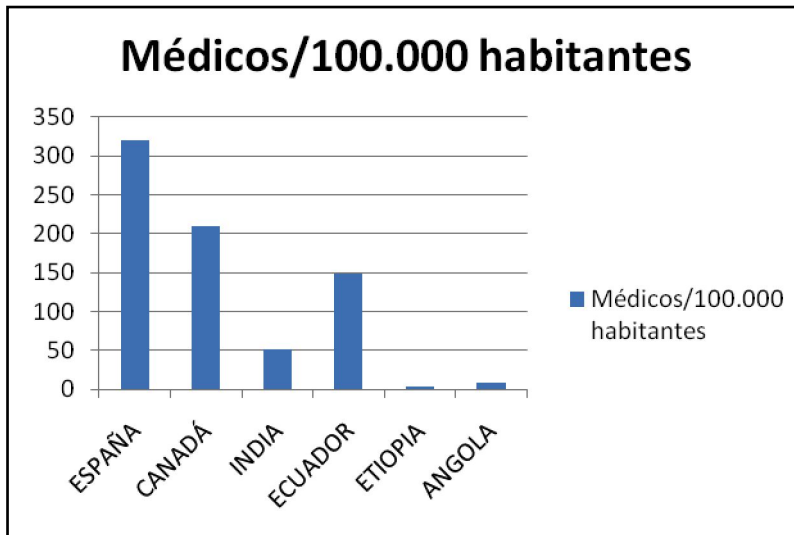
---

---



Observa estas gráficas y contesta a las preguntas:

**Gráfico 1:** Relación de médicos por cada 1000.000 habitantes.



Fuente: Informe sobre Desarrollo Humano 2005. PNUD.

1. ¿Existe mucha diferencia entre España y la India?

---

---

---

2. ¿A qué crees que se deben dichas diferencias?

---

---

---

---

---

3. ¿Cómo se podría mejorar la situación?

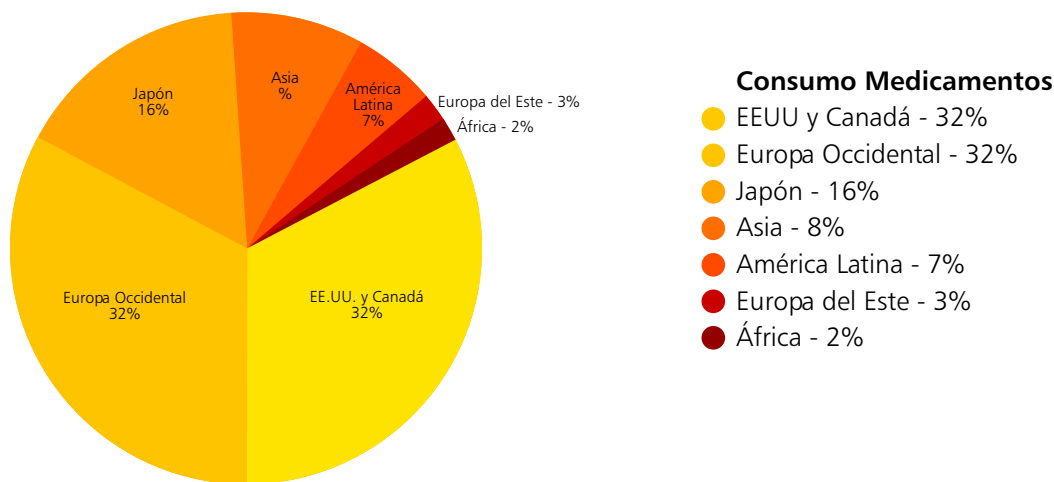
---

---

---

---

---

**Gráfico 2:** Consumo de medicamentos por país.

Fuente: Medicamentos y desarrollo. La realidad de los medicamentos: un viaje alrededor del mundo.  
Coord. Natalia Herce. Médicus Mundi, 2003.

4. ¿Cuáles son los países que consumen más medicamentos?

---

---

---

---

---

---

5. Si los habitantes de los países más pobres son los que tienen peor salud, ¿por qué son los que consumen menos medicamentos?

---

---

---

---

---

---

6. ¿Qué se podría hacer para solucionar esto?

---

---

---

---

---

---



1. Hemos recibido un e-mail de Sabitri pero faltan algunas palabras, ¿las podrías completar?

¡Namaste! Me llamo Sabitri y tengo 10 años. Por las mañanas cuando me levanto, tengo que ir al baño y ducharme fuera porque no tenemos \_\_\_\_\_ en casa. Para preparar la comida, tenemos que ir siempre a buscar \_\_\_\_\_ en una fuente que hay en la calle y mi madre la tiene que hervir muy bien porque sino a menudo nos ponemos enfermos. Todos los residuos de la comida los tiramos en la calle o en el río porque no hay \_\_\_\_\_ en la calle.

2. Qué consecuencias crees que conlleva esta situación para la salud y el medio ambiente?

---

---

---

3. Ahora cuenta la misma historia pero tú eres el/la protagonista.

¡Hola! Me llamo \_\_\_\_\_. Por la mañana cuando me despierto....

---

---

---

4. Escribe un listado con las actividades cotidianas donde es necesario el uso del agua:

_____	_____	_____
_____	_____	_____
_____	_____	_____

5. ¿Qué soluciones propondrías a tu familia si toda el agua que tuvieseis a vuestra disposición estuviese sucia o contaminada?

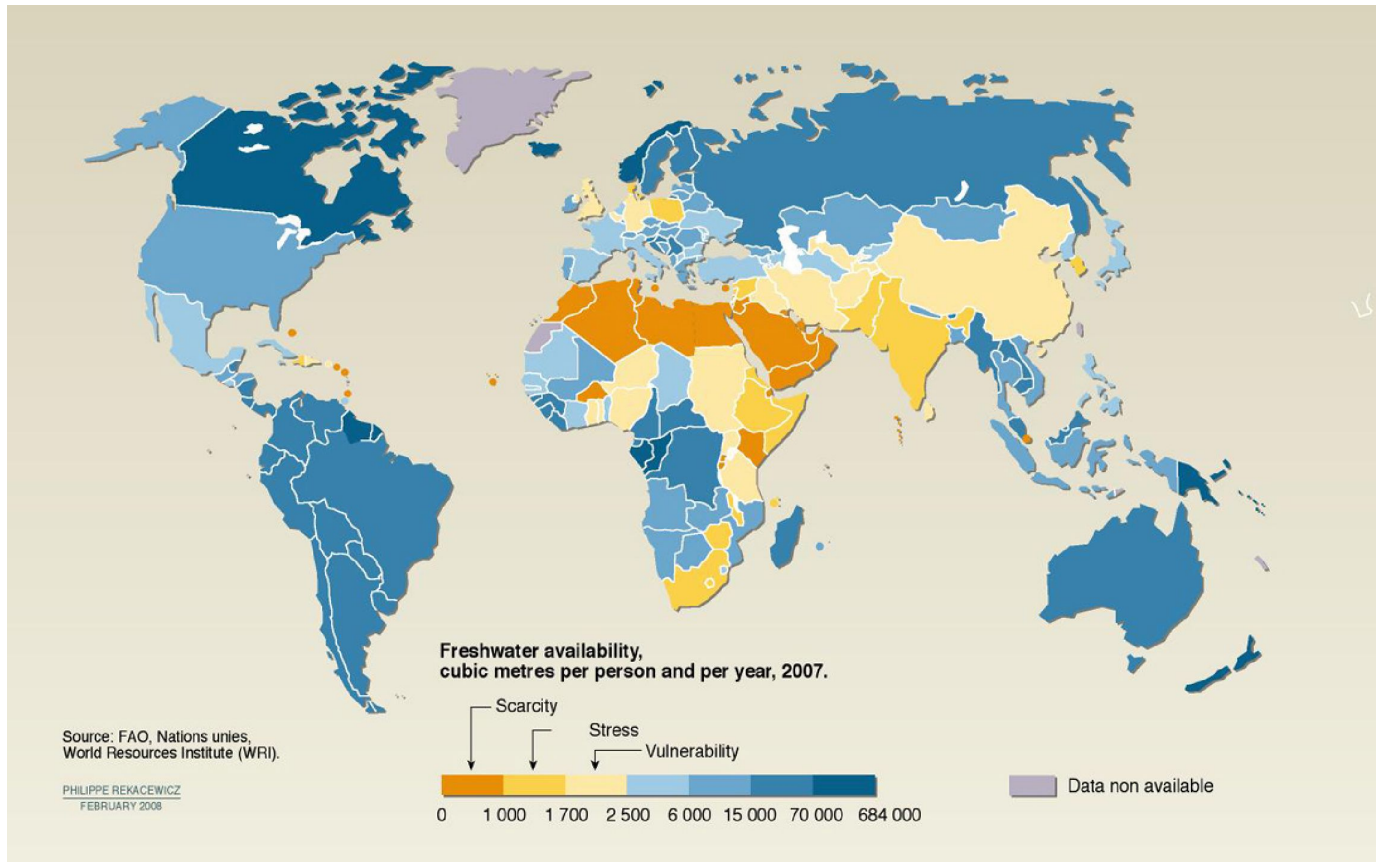
---

---

---



En este mapa puedes ver la distribución de agua potable en el mundo. Cuanto más azul es un país, más agua potable tiene. Cuanto más naranja es un país, menos agua potable tiene.



6. ¿Cuál tiene menos agua potable, India o España? \_\_\_\_\_

7. ¿A qué crees que se debe esta diferencia?

---

---

---

---



¿Sabías que hay muchos países que viven en una situación de pobreza? La India es uno de los países más pobres del mundo. Si entre todos os países nos ayudásemos, podríamos luchar contra esta desigualdad.

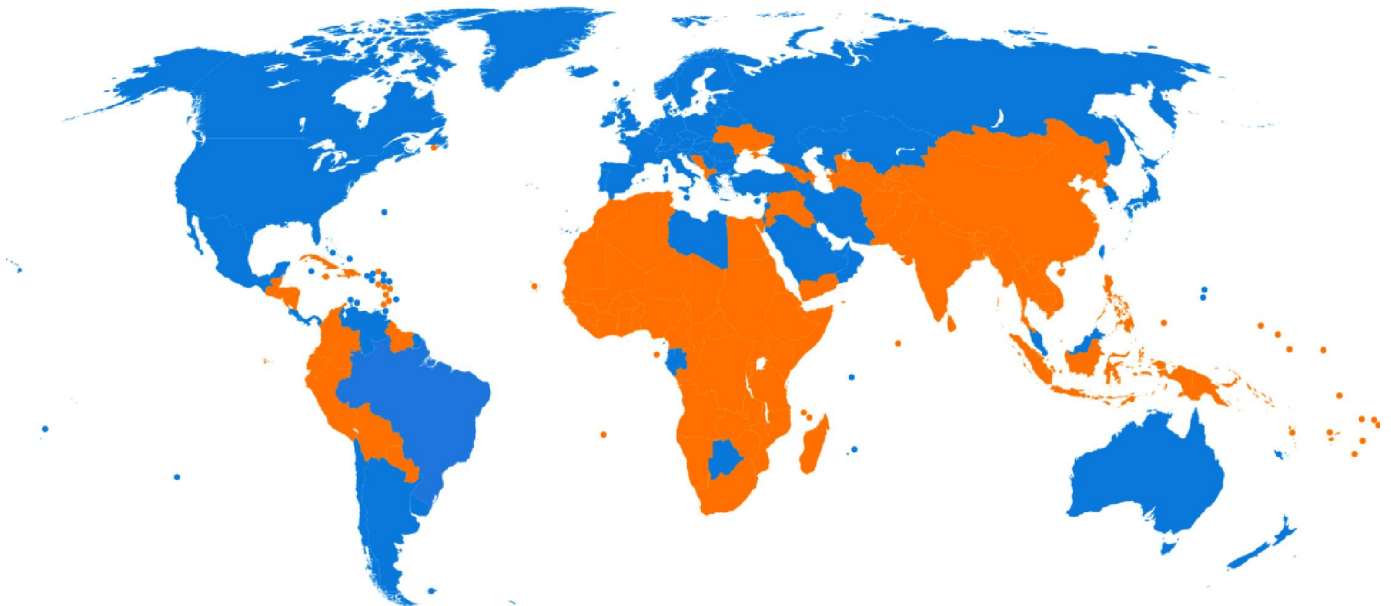
1. En el siguiente mapa los países en azul son los más ricos y en naranja los más pobres. Indica en el mapa donde se encuentran los siguientes países:

a. Estados Unidos  
b. Brasil  
c. Sudáfrica

d. Perú  
e. Francia  
f. India

g. Australia  
h. Russia  
i. España

j. Etiopía  
k. Japón  
l. Guatemala



2. Contesta a las siguientes preguntas:

¿Qué podemos hacer en España para:

- que todos los niños y niñas en la India puedan ir a la escuela?

---

---

- que no haya tantas personas enfermas en el mundo?

---

---

- que todas las personas tengan una casa y un sitio donde dormir?

---

---

- que no haya hambre en el mundo?

---

---